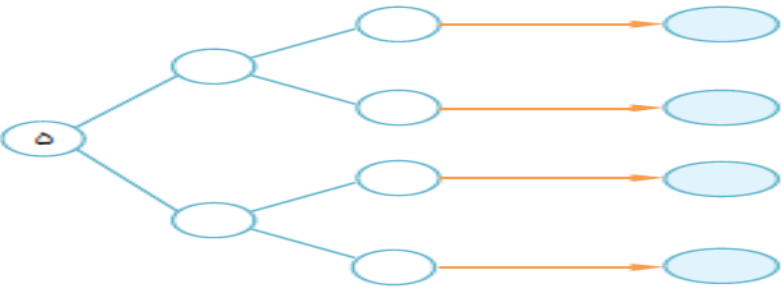

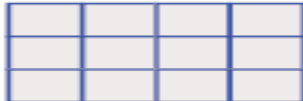


نام و نام خانوادگی		به نام خدا							
آزمون ریاضی کلاس سوم دبستان هاشمی نژاد - اردیبهشت ماه ۹۵									
۱	اندازه قد من سانتی متر است یعنی متر و سانتی متر برای اندازه گیری فاصله ی بین شهرها از واحدی به نام استفاده می کنند. گرم یعنی ۲ کیلو گرم و ۷۰۰ گرم کوچکترین عدد سه رقمی و بزرگترین عدد چهار رقمی بهترین وسیله برای کشیدن دایره است. هر مثلثی که سه ضلع هم اندازه داشته باشد مثلث می گویند.								
۲	عدد ۳۵۶۴ یعنی صد تایی و ده تایی و یکی و هزارتایی این عدد را با حروف بنویسید ارزش مکانی کدام عدد از همه بیشتر است؟								
۳	دانش آموزان کلاس سوم هر هفته ۲ ساعت به استخر می روند . در ۳ هفته چند ساعت به استخر می روند ؟ ۱۰ ساعت چند هفته طول خواهد کشید ؟								
۴	اتوبوسی ساعت ۷ صبح از خوی به طرف زنجان حرکت می کند و ساعت ۱۹ به زنجان می رسد. این اتوبوس چند ساعت بعد از ظهر به زنجان می رسد ؟ این اتوبوس چند ساعت در راه بوده است؟								
۵	همه ی عددهای سه رقمی که صدگان آنها ۵ و دهگان آنها ۳ و ۴ و یکان آنها ۶ یا ۷ باشد، بنویسید. 								
۶	به چند حالت می توان با اسکناس های ۲۰۰ تومانی و ۵۰۰ تومانی ، ۱۰۰۰ تومان درست کرد؟ <table border="1" data-bbox="159 1769 510 2016"> <tr> <td>۲۰۰</td> <td>۵۰۰</td> <td>۱۰۰۰</td> </tr> <tr> <td> </td> <td> </td> <td> </td> </tr> </table>	۲۰۰	۵۰۰	۱۰۰۰					
۲۰۰	۵۰۰	۱۰۰۰							

۷	برای شکل زیر ۳ کسر مساوی بنویسید . 	
۸	شکل را دسته بندی کنید و دو ضرب و یک تقسیم بنویسید. 	
۹	در ۳ جعبه مداد رنگی ۶ تایی و ۴ جعبه مداد رنگی ۱۲ تایی، روی هم چند مداد هست؟	
۱۰	محیط یک زمین کشاورزی به طول ۳۴ متر و عرض ۹ متر، چند متر می شود؟ مساحت این زمین چند متر مربع است؟	
۱۱	حاصل جمع و تفریق های زیر را به دست آورید. $\begin{array}{r} 7523 \\ + 1904 \\ \hline \end{array}$ $\begin{array}{r} 8741 \\ - 4223 \\ \hline \end{array}$ $\begin{array}{r} 9725 \\ - 3451 \\ \hline \end{array}$ $\begin{array}{r} 1279 \\ + 2527 \\ \hline \end{array}$	
۱۲	تعداد دانش آموزان کلاس سوم ۴۰ نفر و چهارم ۳۰ نفر و کلاس پنجم ۳۵ نفر و کلاس دوم ۲۰ نفر است . این اطلاعات را روی نمودار ستونی نشان بدهید.	
۱۳	ضرب و تقسیم های زیر را انجام دهید. $\begin{array}{r} 703 \\ \times 9 \\ \hline \end{array}$ $\begin{array}{r} 538 \\ \times 4 \\ \hline \end{array}$ $\begin{array}{r} 24 \\ 4 \\ \hline \end{array}$ $\begin{array}{r} 56 \\ 8 \\ \hline \end{array}$	
<u>موفق باشید</u>		

تاہریز