

به نام خدا

طراح: زهرا رحمان نژاد

دبستان شاهد شهید بهشتی

فصل ۴-۳-۲-۱

آزمون ریاضی

سال تحصیلی ۹۳-۹۲

کلاس سوم ابتدایی

نام و نام خانوادگی:

۱. الگوهای عددی زیر را ادامه دهید.

۹ - ۱۸ - ۲۷ - ..... - ..... - ..... - .....      ۱۱۰۰ - ۲۱۰۰ - ۳۱۰۰ - ..... - ..... - ..... - .....  
 ۱ - ۳ - ۶ - ۱۰ - ..... - ..... - ..... - .....      ..... - ..... - ..... - ..... - ۵۶۰۰ - ۵۸۰۰ - ۶۰۰۰

۲. جدول های زیر را کامل کنید.


زمان	۱۷		۲۲:۳۰
بعد از ظهر		۳:۲۵	

ریال	۳۰۰۰		۲۴۷۰
تومان		۵۰	

۳. اعداد زیر را مقایسه کرده و آن ها را از بزرگ به کوچک مرتب کنید.

۷۸۳۴ - ۸۶۰۹ - ۶۷۹۲ - ۸۷۳۷ - ۷۴۹۶

..... > ..... > ..... > ..... > .....



۴. در جای خالی عدد مناسب بنویس.

❖ ۳۵۰۷ می شود ..... ده تایی ، ..... یکی ، ..... هزار تایی و ..... صد تایی

❖ ۵ متر یعنی ..... سانتی متر

❖ ۷۵۰۰ متر یعنی ..... کیلو متر و ..... متر

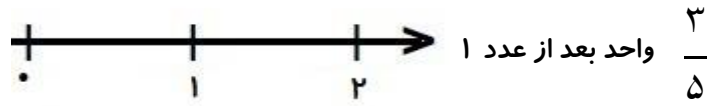
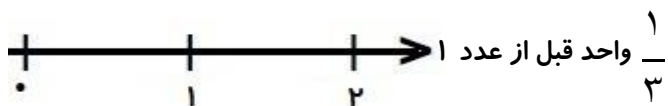
❖ ۹ کیلو گرم و ۳۴۷ گرم یعنی ..... گرم

۵. حاصل جمع های زیر را بدست آورید.

۴۰۰۰ + ۳۰۰۰ + ۵۰۰ + ۲۰ + ۹ = .....

۲۰۰۰ + ۵۰۰۰ + ۴۰۰ + ۳۰ + ۱ = .....

۶. کسر های زیر را روی محور نشان بده.



۷. کسر های زیر را با هم مقایسه کنید.

$$\frac{6}{7} \bigcirc \frac{4}{7}$$

$$3 \text{ واحد و } \frac{4}{5} \text{ واحد} \bigcirc 3 \text{ واحد و } \frac{2}{5} \text{ واحد}$$

$$\frac{1}{5} \bigcirc \frac{1}{9}$$

$$\frac{6}{8} \bigcirc \frac{0}{3}$$



$$1 \bigcirc \frac{8}{8}$$



$$\frac{2}{6} \bigcirc \frac{4}{12}$$

۸. رضا و علی هر کدام یک مقدار مساوی پول دارند. رضا  $\frac{1}{3}$  و علی  $\frac{1}{5}$  پول خود را خرج کرده اند. با رسم شکل نشان بده که چه کسی پول کمتری خرج کرده است؟

۹. جدول زیر را کامل کنید.

توضیح عبارت ضرب	ضرب	جمع	شکل
۴ دسته ی ۵ تایی می شود.....			
		$9+9+9=$	

۱۰. مینا ۳ بسته شکلات شیری ۶ تایی و ۴ بسته شکلات کاکائویی ۷ تایی دارد. او چند شکلات دارد؟

۱۱. در جای خالی عدد مناسب بنویس.

$$(7 \times 3) - (2 \times 8) = \dots - \dots = \dots$$

$$(9 - 3) + (6 \times 3) = \dots + \dots = \dots$$

$$63 \div \dots = 7$$

$$6 \times 5 = (4 \times \dots) + (\dots \times 5)$$



۱۲. من ۳۲ مداد دارم. اگر مداد های من ۸ برابر مدادهای خواهرم باشد. من و خواهرم روی هم چند مداد داریم.

۱۳. خطوط موازی در هر شکل را هم رنگ کنید.



۱۴. دایره ای به شعاع ۲ سانتی متر رسم کن. آن را به ۶ قسمت مساوی تقسیم کنید و ۳ قسمت آن را رنگ کنید و کسر مربوط به آن را بنویسید.

باز خورد:

